
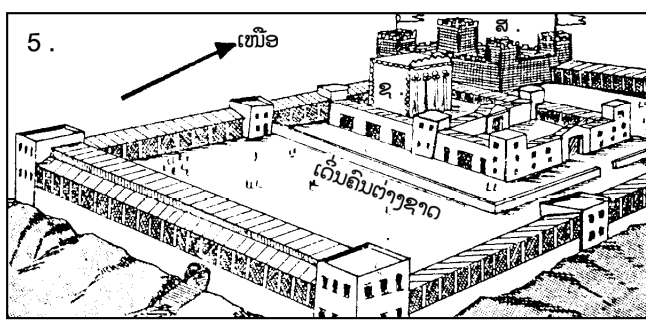
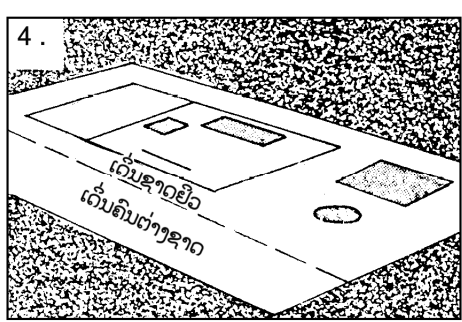

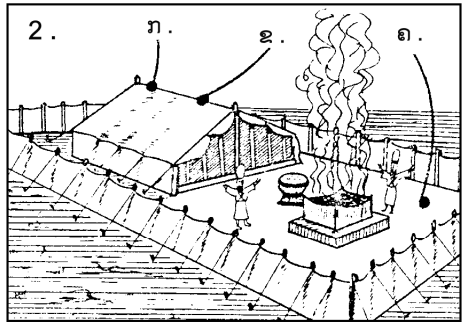
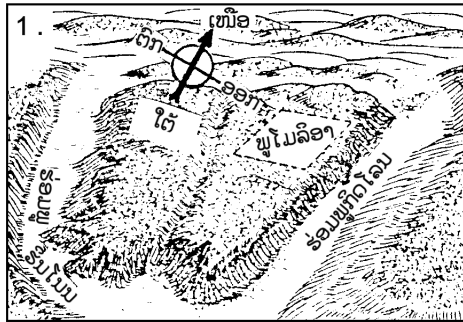


ບົດທີ 1

ພະວິຫານໃນກຸງເຢລູຊາເລັມ

ເປັນການຕີຫຼາຍທີ່ທ່ານຮຽນມາເຖິງເຫຼັ້ມທີ 5 ແລ້ວ. ໃນເຫຼັ້ມນີ້ ຈະຮຽນເລື່ອງອາທິດສຸດທ້າຍໃນຊີວິດຂອງພະອົງກ່ອນ ຕາຍ. ໃນອາທິດນັ້ນ ພະອົງຢູ່ໃນກຸງເຢລູຊາເລັມ ດັ່ງນັ້ນ ເຮົາຈະເລີ້ມຕົ້ນດ້ວຍການຮຽນເລື່ອງກຸງເຢລູຊາເລັມ ແລະ ພະວິຫານສະເພາະ.



- 1 ເພື່ອຈະຮຽນຮູ້ເລື່ອງປະຫວັດຂອງກຸງເຢລູຊາເລັມ ເຮົາຕ້ອງກັບໄປສຶກສາໃນພະຄຳພີເດີມ. ກ່ອນຈະຮຽນຄືນໃຫ້ ທ່ານຈົດບົດດັ່ງຕໍ່ໄປນີ້:
- ກ. ອັບລາຮາມຢູ່ປະມານປີໃດ? \_\_\_\_\_
  - ຂ. ດາວິດແລະຊາໂລໂມນເດ? \_\_\_\_\_
  - ຄ. ພວກຢູດາຖືກເນລະເທດໄປບາບີໂລນ? \_\_\_\_\_

2 ສະຖານທີ່ຂອງກຸງເຢລູຊາເລັມປາກົດມາໃນສະໄໝອັບລາຮາມແຕ່ໃນເວລານັ້ນມີອີກຊື່ ໜຶ່ງ. ເຂດທີ່ຕໍ່ໄປກາຍ ເປັນກຸງເຢລູຊາເລັມປາກົດມາເທື່ອທຳອິດໃນປະມານປີໃດ? \_\_\_\_\_

1. ພູໂມລິອາໃນສະໄໝອັບລາຮາມ

3 ມີເຫດການສອງປະການໃນຊີວິດຂອງອັບລາຮາມທີ່ອ້າງເຖິງເຂດນັ້ນ.

ໃຫ້ອ່ານປະຖົມມະການ 14:18-19

ກ. ໃນເຫດການນັ້ນ ອັບລາຮາມກັບມາຈາກລົບ ເພິ່ນພົບໃຜ? \_\_\_\_\_

ເພິ່ນເປັນກະສັດເມືອງໃດ? \_\_\_\_\_

ເມືອງນັ້ນເປັນຊື່ເດີມຂອງເຢລູຊາເລັມ!

ຂ. ກະສັດນັ້ນເອົາສອງຢ່າງໃດມາໃຫ້ອັບລາຮາມ? \_\_\_\_\_

ສອງຢ່າງນັ້ນເປັນອັນດຽວກັນທີ່ພະເຢຊູໃຊ້ເປັນສັນຍາລັກ ເລືອດແລະກາຍຂອງພະອົງ.

ໃຫ້ອ່ານໃນປະຖົມມະການ 22:1-2 ແລະຂໍ້ 10:13 ດ້ວຍ.

ຄ. ໃນໂອກາດນີ້ ພະເຈົ້າທົດລອງອັບລາຮາມ ລອງເບິ່ງວ່າເພິ່ນຈະຍອມເສຍສະຫຼະລູກຊາຍຫຼື ບໍ່. ລູກນັ້ນຊື່ຫຍັງ? \_\_\_\_\_

ຜົນສຸດທ້າຍພະອົງຫາເຄື່ອງບູຊາແທນລູກຂອງເພິ່ນ, ເຄື່ອງບູຊາແທນນັ້ນຄືຕົວຫຍັງ? \_\_\_\_\_

ງ. ເຫດການນີ້ເກີດຂຶ້ນໃນເຂດພູໃດ? \_\_\_\_\_

ຈ. ພະທຳຂ່າວຄາວສະບັບຕົ້ນ 3:1 ບອກວ່າກະສັດຊາໂລໂມນສ້າງພະວິຫານບ່ອນພູນັ້ນທີ່ອັບລາຮາມ ຈະ ຖະຫວາຍລູກ. ໃນອີກຫຼາຍປີເຂດນັ້ນກາຍເປັນກຸງໃດ? \_\_\_\_\_

ສ. ເຫັນວ່າພູໂມລິອາ ທີ່ອັບລາຮາມຈະຖະຫວາຍອີຊາກຢູ່ໃນເຂດດຽວທີ່ກາຍເປັນກຸງເຢລູຊາເລັມ. ໃນອີກ 2000 ປີ ຫຼັງຈາກທີ່ອັບລາຮາມຈະຍອມບູຊາລູກແຕ່ມີຕົວແກະມາຕາຍແທນ. ພະເຢຊູມາຕາຍແທນຫຍັງ? \_\_\_\_\_

ຊ. ລູກແກະເປັນສັນຍາລັກໝາຍເຖິງໃຜ? \_\_\_\_\_

4 ທີ່ຕົວແກະຕາຍແທນອີຊາກ ແລະພະເຢຊູຕາຍແທນບາບຂອງໂລກມີສ່ວນຄ້າຍຄືກັນບາງປະການຄື:

ກ. ເມັນຄືເຊເດັກເອົາຂອງກິນໃຫ້ອັບລາຮາມສອງຢ່າງໃດ? \_\_\_\_\_ ແລະ \_\_\_\_\_

ຂ. ພະເຢຊູເອົາຫຍັງມາ ໃຫ້ພວກສາວິກເປັນສັນຍາລັກທີ່ພະອົງຕາຍແທນບາບເຮົາ? \_\_\_\_\_ ແລະ \_\_\_\_\_

ຄ. ພະອົງປະທານຫຍັງມາຕາຍແທນອີຊາກ? \_\_\_\_\_

ງ. ແມ່ນຫຍັງທີ່ເປັນສັນຍາລັກໝາຍເຖິງພະເຢຊູຕາຍແທນບາບຂອງໂລກ? \_\_\_\_\_

ຈ. ເຫດການເຫຼົ່ານັ້ນເກີດຂຶ້ນໃນເຂດກຸງໃດ? \_\_\_\_\_

ຕາຕະລາງຕໍ່ໄປນີ້ ອ້າງເຖິງເຂດກຸງ  
ເຢລູຊາເລັມ ແລະພະວິຫານ. ໃຫ້ທ່ານ  
ຂຽນຄຳ “ອັບລາຮາມ” ຂ້າງຄຳ  
“ແທ່ນບູຊາ” ໃຕ້ “ຜູ້ສ້າງ” ແລະຂຽນອີກ  
“ປີ 2000 ກ.ຄ.ສ.” ໃຕ້ຄຳ “ໃນປີ”



ເຂດເຢລູຊາເລັມແລະພະວິຫານ

ສະຖານທີ່ວິຫານ	ຜູ້ສ້າງ	ໃນປີ		
ພູໂມລິອາ ແທ່ນບູຊາ ປຖກ 14 ປຖກ 22				
ເຕັນສັກສິດ				
ອພຍ 25-27			ທຳລາຍ ດ້ວຍ	ໃນປີ
ພະວິຫານທຳອິດ				
1 ກສ ບົດ 6				
ພະວິຫານທີສອງ				
ເອັດຊະລາ ບົດ 5				
ພະວິຫານທີສາມ ຍຮ 2:20 ມທ 21:12				
ສຸເຫຼົ້າສັກສິດ	ປະຈຸບັນ ເປັນຂອງ ສາດສະໜາອິດສະລາມ ສ້າງໃນປີ ຄ.ສ. 691			

5 ໃຫ້ກັບໄປເບິ່ງຮູບໜ້າປົກບົດນີ້. ຮູບທີ 1 ນັ້ນຄື ເຂດທີ່ຈະກາຍເປັນກຸງເຢລູຊາເລັມ ແຕ່ໃນສະໄໝຂອງອັບລາ ຮາມຍັງບໍ່ເປັນເທື່ອ.

ກ. ຢູ່ກາງຮູບນັ້ນແມ່ນພູໃດ? \_\_\_\_\_

ຂ. ຕໍ່ໄປເຂດນັ້ນຈະກາຍເປັນກຸງໃດ? \_\_\_\_\_

6 ພູນັ້ນຢູ່ຫວ່າງກາງ ຮ່ອມພູສອງຮ່ອມແລ້ວສອງຮ່ອມນັ້ນຕໍ່ກັນເປັນຮ່ອມດຽວທີ່ມີຮູບຮ່າງເໝືອນອັກສອນ “ບ” ທັງສອງຮ່ອມຕໍ່ກັນຢູ່ຂ້າງໃຕ້ຂອງພູນັ້ນ. ໃຫ້ທ່ານສັງເກດຮ່ອມເຫຼົ່ານັ້ນໃນຮູບທີ 1 ໜ້າປົກບົດນີ້ອີກ.

ກ. ແມ່ນຮ່ອມໃດຢູ່ລະຫວ່າງພູໂມລິອາແລະພູໝາກກອກເທດທາງທິດຕາເວັນອອກ? \_\_\_\_\_

ຂ. ໃນສອງຮ່ອມນັ້ນ ຮ່ອມພູຮິນໂນມຢູ່ຂ້າງທິດຕາເວັນອອກ ຫຼືທິດຕາເວັນຕົກ? \_\_\_\_\_

ຄ. ຮ່ອມພູກິດໂລນເດ? \_\_\_\_\_

7 ໃນຮ່ອມພູສອງຮ່ອມນັ້ນ

ກ. ຮ່ອມໃດຢູ່ຂ້າງທິດຕາເວັນຕົກ? \_\_\_\_\_

ຂ. ຮ່ອມໃດຢູ່ຂ້າງທິດຕາເວັນອອກ? \_\_\_\_\_

8 ກ. ພະເຢຊູຍົກສັນຍາລັກສອງຢ່າງທີ່ໝາຍເຖິງພະກາຍແລະເລືອດຂອງພະອົງ ຄືສັນຍາລັກສອງປະການໃດ?

\_\_\_\_\_ ແລະ \_\_\_\_\_

ຂ. ເມັນຄືເຊເດັກເອົາສອງຢ່າງໃດມາຍົກໃຫ້ອັບລາຮາມ?

\_\_\_\_\_ ແລະ \_\_\_\_\_

ຄ. ລູກທີ່ອັບລາຮາມພ້ອມຈະຖະຫວາຍຊື່ຫຍັງ? \_\_\_\_\_

ງ. ພະອົງຈັດຫຍັງມາບູຊາແທນ? \_\_\_\_\_

ຈ. ເຫດການເລື່ອງອັບລາຮາມທັງສອງປະການນັ້ນເກີດຂຶ້ນມາໃນເຂດທີ່ໃນອະນາຄົດຈະກາຍເປັນກຸງໃດ? \_\_\_\_\_

## 2. ເຕັ້ນສັກສິດ (ວິຫານທີ່ເຄື່ອນໄຫວໄດ້)

9 ຜູ້ສືບຕໍ່ລົງມາຈາກອັບລາຮາມໄດ້ເຂົ້າໄປເອຍິບໃນສະໄໝຂອງໂຢເຊັບ ເຂົ້າຢູ່ໃນປະເທດເອຍິບ 400 ປີແລ້ວ ຊາວເອຍິບໃຊ້ເຂົາເປັນທາດ. ແຕ່ໃນຄືນປັດສະດາເຂົາຮັບການປົດປ່ອຍຈາກເອຍິບ ແລ້ວອອກເລາະໄປໃນຖິ່ນກັນດານ 40 ປີ ກ່ອນຈະເຂົ້າແຜ່ນດິນທີ່ພະເຈົ້າສັນຍາໃຫ້ເຂົາ.

ກ. ແມ່ນໃຜເປັນຜູ້ນຳເຂົາໃນ 40 ປີນັ້ນ? \_\_\_\_\_

ຂ. ໃນປະມານປີໃດ ກ.ຄ.ສ.? \_\_\_\_\_

10 ຊາວຍິວຢູ່ໃນຜ້າເຕັນຕະຫຼອດ 40 ປີທີ່ຢູ່ໃນຖິ່ນກັນດານເພາະເຄື່ອນໄຫວຢູ່ສະເໝີ. ດັ່ງນັ້ນ ວິຫານຂອງເຂົາກໍ ຕ້ອງເປັນຜ້າເຕັນດ້ວຍ. ທີ່ນະມັດສະການພະເຈົ້າຂອງເຂົາໃນ 40 ປີນັ້ນເປັນຫຍັງ? \_\_\_\_\_

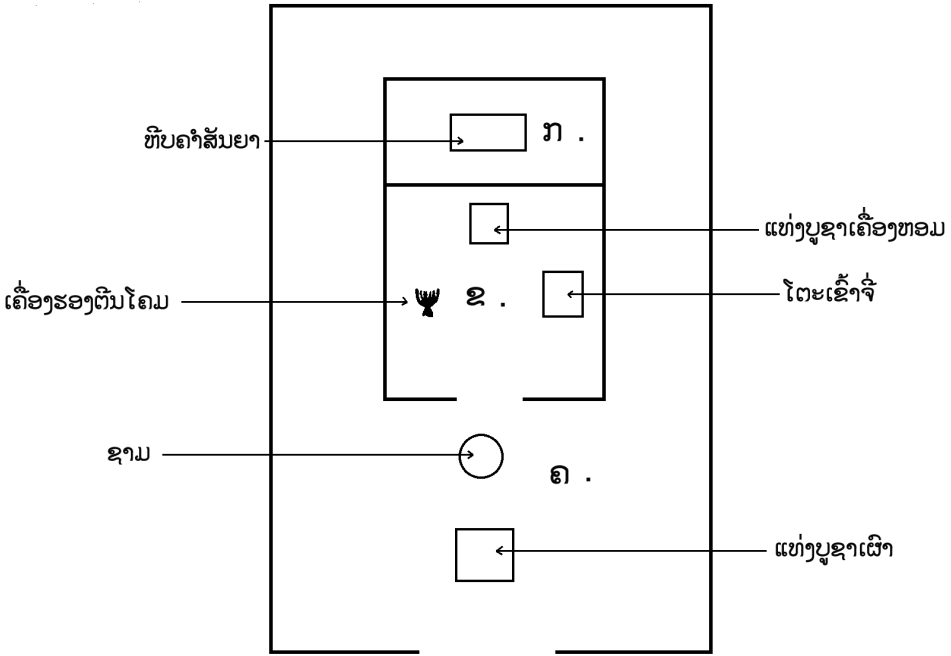
ຝຶກ: ໃຫ້ທ່ານເປີດເບິ່ງຕາຕະລາງ “ເຂດເຢລູຊາເລັມແລະພະວິຫານ” ໃນໜ້າ 5. ໃນຫ້ອງຂ້າງຄຳ “ເຕັນສັກສິດ” ໃຕ້ຄຳ “ຜູ້ສ້າງ” ໃຫ້ຂຽນຊື່ “ໂມເຊ”. ໃຕ້ຄຳ “ໃນປີ” ໃຫ້ຂຽນເລກ “1400 ກ.ຄ.ສ.”

11 ກ. ວິຫານເຄື່ອນທີ່ຂອງຊາວຍິວໃນເວລາຢູ່ໃນຖິ່ນກັນດານ 40 ປີ ຊື່ຫຍັງ? \_\_\_\_\_  
ຂ. ພະເຈົ້າຊຶ່ງໃຫ້ໃຜສ້າງ? \_\_\_\_\_  
ຄ. ໃນປະມານປີໃດ? \_\_\_\_\_

12 ຂ້າງໃນເຕັນສັກສິດເປັນທີ່ປະຈຳຂອງ “ຫົບຄຳສັນຍາ” ຫົບນັ້ນສ້າງດ້ວຍໄມ້ແລ້ວຟອກດ້ວຍຄຳ. ຫົບຄຳສັນຍາ ນັ້ນ ເປັນສັນຍາລັກວ່າພະເຈົ້າຊຶ່ງສະຖິດຢູ່ກັບເຂົາ.  
ກ. ມີສິ່ງຂອງອັນໃດທີ່ເປັນຫຼັກຖານວ່າພະເຈົ້າຢູ່ກັບຊາວຍິວນັ້ນ? \_\_\_\_\_  
ຂ. ສິ່ງຂອງເຫຼົ່ານັ້ນເອົາໄວ້ປະຈຳຢູ່ໃສ? \_\_\_\_\_

13 ຫໍເຕັນສັກສິດນັ້ນມີຮູບສີ່ຫຼ່ຽມຍາວ ແລະຂ້າງໃນມີຜ້າກັ້ງແບ່ງເປັນສອງຫ້ອງ. ຫ້ອງຫຼັງສຸດເປັນຫ້ອງສຳຄັນທີ່ ສຸດແລະຫ້ອງຂ້າງໜ້າເປັນແຕ່ຫ້ອງສັກສິດ. ຂ້າງນອກຫໍເຕັນສັກສິດມີເດີ່ນພະວິຫານ. ໃຫ້ເບິ່ງຮູບທີສອງໜ້າປົກບົດນີ້ທີ່ເປັນຮູບຂອງເຕັນສັກສິດນັ້ນ.  
ກ. ເຕັນສັກສິດນັ້ນປະກອບດ້ວຍສອງຫ້ອງໃດ? \_\_\_\_\_  
ຂ. ຂ້າງນອກມີຫຍັງອີກ? \_\_\_\_\_

14 ຕໍ່ໄປນີ້ມີແຜນຜັງຂອງເຕັນສັກສິດນັ້ນ:



ໃຫ້ທ່ານເບິ່ງແບບແລ້ວຕອບຕໍ່ໄປນີ້:

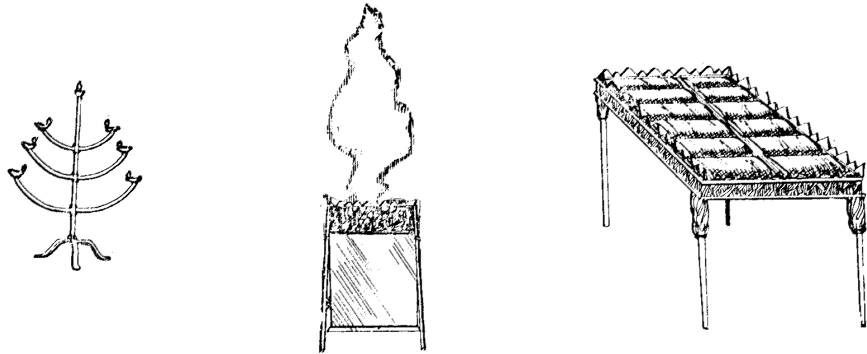
ກ. ຫ້ອງສັກສິດທີ່ສຸດມີແຕ່ຫົບຄຳສັນຍາຢ່າງດຽວ. ລັດສະໝີຂອງພະເຈົ້າຢູ່ກັບຫົບນັ້ນ. ໃນແຜນຜັງນີ້ ແມ່ນຕົວອັກສອນໃດທີ່ໝາຍເຖິງຫ້ອງສັກສິດທີ່ສຸດນັ້ນ? \_\_\_\_\_

ຂ. ຫ້ອງສັກສິດມີເຄື່ອງໃຊ້ສາມຢ່າງ ແມ່ນຕົວອັກສອນໃດທີ່ເປັນຫ້ອງສັກສິດ? \_\_\_\_\_

ຄ. ເດີນນັ້ນມີເຄື່ອງໃຊ້ສອງຢ່າງ ແມ່ນຕົວອັກສອນໃດ? \_\_\_\_\_

15 ກ. ໃນເຕັ້ນສັກສິດນັ້ນມີເຄື່ອງໃຊ້ທັງໝົດ 6 ຢ່າງ. ສອງຢ່າງເປັນແທ່ນບູຊາ ແທ່ນບູຊາເຄື່ອງຫອມຢູ່ຂ້າງໃນຕໍ່ໜ້າຜ້າກັງ. ຜ້າກັງນັ້ນແຍກລະຫວ່າງສອງຫ້ອງໃດ? \_\_\_\_\_ ແລະ \_\_\_\_\_

ຂ. ແທ່ນບູຊາເຜົາຢູ່ຂ້າງນອກຜ້າເຕັ້ນປ່ອນມີອາກາດສົດໄສ. ແທ່ນບູຊານັ້ນຢູ່ໃນປ່ອນໃດ? \_\_\_\_\_



16 ໃຫ້ທ່ານເບິ່ງແບບຫໍເຕັ້ນສັກສິດດັງ ກ່ອນແລ້ວຕອບຄຳຖາມດັງຕໍ່ໄປນີ້:

ກ. ແມ່ນຫ້ອງໃດໃນເຕັ້ນສັກສິດທີ່ມີເຄື່ອງໃຊ້ຢ່າງດຽວ? \_\_\_\_\_

ຂ. ຢ່າງນັ້ນຄືຫຍັງ? \_\_\_\_\_

ຄ. ປ່ອນໃດທີ່ມີສອງຢ່າງ? \_\_\_\_\_

ງ. ຢ່າງໃດແດ່? \_\_\_\_\_ ແລະ \_\_\_\_\_

ຈ. ປ່ອນໃດທີ່ມີສາມຢ່າງ? \_\_\_\_\_

ສ. ຢ່າງໃດແດ່? \_\_\_\_\_ ແລະ \_\_\_\_\_

17 ໃຫ້ເບິ່ງຮູບໜ້າປົກບົດນີ້. ຮູບທີສອງຂອງເຕັ້ນສັກສິດນັ້ນ ບໍ່ໄດ້ເປີດໃຫ້ເຫັນຂ້າງໃນ ແຕ່ເຮົາຍັງຮູ້ແຕ່ລະສ່ວນໄດ້:

ກ. ອັກສອນໃດໝາຍຫ້ອງທີ່ມີຫົບຄຳສັນຍາ? \_\_\_\_\_

ຂ. ຫ້ອງນັ້ນຊື່ຫຍັງ? \_\_\_\_\_

ຄ. ອັກສອນໃດໝາຍຫ້ອງທີ່ມີເຂົ້າຈີ່ ເຄື່ອງຮອງຕີນໂຄມ ແລະແທ່ນບູຊາເຄື່ອງຫອມ? \_\_\_\_\_

ງ. ປ່ອນນັ້ນຊື່ຫຍັງ? \_\_\_\_\_

ຈ. ອັກສອນໃດໝາຍເຖິງປ່ອນທີ່ມີ ຊາມ ແລະແທ່ນບູຊາເຜົາ? \_\_\_\_\_

ສ. ຊື່ຫຍັງ? \_\_\_\_\_

3. ກຸງເຢລູຊາເລັມ ແລະ ພະວິຫານທຳອິດ

18 ພວກຊາວຍິວມາຢູ່ໃນດິນທີ່ພະເຈົ້າສັນຍາໃຫ້ເຂົາແລ້ວອີກຫຼາຍປີກະສັດດາວິດຂຶ້ນປົກຄອງ.  
 ດາວິດເລີ້ມວາງ ແຜນການ ສ້າງພະວິຫານຖາວອນ. ໃຫ້ທ່ານອ່ານພະທຳ ຊາມູເອນທີສອງ 5:6  
 ກ. ກະສັດດາວິດສູ້ຮົບທີ່ນະຄອນໃດ ເພື່ອຈະຕັ້ງໄວ້ໃຫ້ເປັນນະຄອນຫຼວງ? \_\_\_\_\_  
 ຂ. ແມ່ນຊາວໃດທີ່ຢູ່ບ່ອນນັ້ນແຕ່ກ່ອນ? \_\_\_\_\_

19 ເຢລູຊາເລັມຢູ່ດິນສູງແລະອີກຊາວເຢຍູດໄດ້ສ້າງກຳແພງອ້ອມ. ດັ່ງນັ້ນ ເຢລູຊາເລັມຄືປ້ອມຊຶ່ງ  
 ຈະຍຶດຍາກທີ່ສຸດ. ທະຫານທີ່ຈະເຂົ້າຍຶດເຢລູຊາເລັມຈະຕ້ອງຂ້າມຮ່ອມພູ ຂຶ້ນໄປຟາກນັ້ນ  
 ແລ້ວຂຶ້ນກຳແພງອີກຈຶ່ງຈະເຂົ້າໄດ້.  
 ກ. ໃນຮ່ອມພູກິດໂລນກັບຮິນໂນມ ເຂົາຕ້ອງຂ້າມຮ່ອມໃດຢູ່ຟາກຕາເວັນຕົກ? \_\_\_\_\_  
 ຂ. ຮ່ອມໃດຢູ່ຟາກຕາເວັນອອກ? \_\_\_\_\_  
 ຄ. ນອກຈາກໂນນທັງສອງຟາກມີຫຍັງອີກທີ່ປ້ອງກັນບໍ່ໃຫ້ສັດຕູເຂົ້າເຢລູຊາເລັມໄດ້ງ່າຍ?  
 \_\_\_\_\_

20 ໃຫ້ອ່ານ ພະທຳຊາມູເອນທີສອງ 5:7 ເຢລູຊາເລັມມີຊື່ຊັ້ນດັ່ງຕໍ່ໄປນີ້: (ຕື່ມຄວາມທີ່ຂາດ)  
 ກ. ປ້ອມຍາມເມືອງ \_\_\_\_\_  
 ຂ. ເມືອງຂອງ \_\_\_\_\_  
 ຄ. ຮ່ອມພູກິດໂລນຢູ່ຂ້າງໃດ? \_\_\_\_\_  
 ງ. ຮ່ອມພູຮິນໂນມເດ? \_\_\_\_\_

21 ພວກຊາວເຢຍູດມີບັນຫາເພາະບໍ່ມີບ່ອນຕັກນ້ຳຂ້າງໃນກຳແພງ ເຂົາແກ້ບັນຫານັ້ນດ້ວຍຊຸດອຸ  
 ໂມງໃຕ້ດິນສະນັ້ນ ນອກກຳແພງ. ຊາມູເອນທີສອງ 5:7-8 ໄດ້ບອກວິທີຂຶ້ນກອງທັບຂອງດາວິດ  
 ເຂົ້າກຳແພງນັ້ນໄດ້. ດາວິດເຂົ້າຍຶດກຸງເຢລູຊາເລັມປະມານປີໃດ? \_\_\_\_\_


22 ກະສັດດາວິດໄດ້ກຸງເຢລູຊາເລັມແລ້ວ ເພິ່ນຢາກສ້າງພະວິຫານຖາວອນແທນທີ່ເຕັ້ນສັກສິດ.  
 ໃຫ້ອ່ານ ປະຫວັດກະສັດທິ ໜຶ່ງ 6:1  
 ກ. ແມ່ນໃຜສ້າງພະວິຫານ? \_\_\_\_\_  
 ຂ. ແມ່ນໃຜເປັນພໍ່ຂອງຊາໂລໂມນ? \_\_\_\_\_

23 ເຂດຂອງກຸງເຢລູຊາເລັມມີຊື່ໃດ? (ເລືອກ)  
 ກ. ເມືອງຂອງດາວິດ  
 ຂ. ນາຊາເລັດ  
 ຄ. ພູເຮໂມນ  
 ງ. ພູໂມລິອາ  
 ຈ. ຊີໂອນ

**24** ກະສັດຊາໂລໂມນຊອກຫາພັດສະດຸຢ່າງດີທີ່ສຸດກ່ອນຈະສ້າງພະວິຫານ. ພະວິຫານນັ້ນໃຫຍ່ ແລະຖາວອນ ແຕ່ ວ່າມີແຜນຜັງຄ້າຍຄືກັນກັບເຕັ້ນສັກສິດກ່ອນ. ໃຫ້ທ່ານກັບໄປເບິ່ງຮູບທີ 3 ໃນໜ້າປົກບົດນີ້ຄືຮູບພະວິຫານທີ່ກະສັດຊາໂລໂມນສ້າງ. ໃນຮູບນັ້ນຕົວອັກສອນໃດໝາຍເຖິງ ຫ້ອງສັກສິດທີ່ສຸດ? \_\_\_\_\_ ຫ້ອງສັກສິດ? \_\_\_\_\_ ເດີນ? \_\_\_\_\_

**25** ເຄື່ອງໃຊ້ໃນພະວິຫານເປັນອັນດຽວກັນກັບເຄື່ອງໃຊ້ ໃນເຕັ້ນສັກສິດດ້ວຍ:

- ກ. ຫີບຄຳສັນຍາຢູ່ໃນຫ້ອງໃດ? \_\_\_\_\_
- ຂ. ແທ່ນບູຊາເຄື່ອງຫອມຢູ່ໃນຫ້ອງໃດ? \_\_\_\_\_
- ຄ. ແທ່ນບູຊາເຜົາເດ? \_\_\_\_\_
- ງ. ຊາມ? \_\_\_\_\_
- ຈ. ໂຕະເຂົ້າຈີ່? \_\_\_\_\_
- ສ. ເຄື່ອງຮອງຕີນໂຄມ? \_\_\_\_\_




**26** ໃນພະວິຫານ ເຊັ່ນດຽວກັນກັບໃນຫໍເຕັ້ນສັກສິດ

- ກ. ມີເຄື່ອງໃຊ້ອັນໃດໃນຫ້ອງສັກສິດທີ່ສຸດ? \_\_\_\_\_
- ຂ. ໃນຫ້ອງສັກສິດເດ? \_\_\_\_\_
- ຄ. ໃນເດີນມີຫຍັງ? \_\_\_\_\_

**27** ມີຫຍັງທີ່ແຍກຫ້ອງສັກສິດຈາກຫ້ອງສັກສິດທີ່ສຸດ? \_\_\_\_\_

**28** ແຜນຜັງຂອງພະວິຫານຄ້າຍຄືກັນກັບແຜນຜັງຂອງ ຫໍເຕັ້ນສັກສິດແຕ່ພັດສະດຸສ້າງແຕກຕ່າງກັນ.

- ກ. ອັນໃດປະກອບດ້ວຍຫີນ? \_\_\_\_\_
- ຂ. ອັນໃດປະກອບດ້ວຍໄມ້ແລະຜ້າ? \_\_\_\_\_



**29** ຫໍເຕັ້ນສັກສິດເຄື່ອນທີ່ໄດ້ ແຕ່ພະວິຫານຕັ້ງໄວ້ໃນສະຖານທີ່ຖາວອນ. ໃນຮູບທີ 1 ໜ້າປົກບົດນີ້ ເຫັນວ່າພະວິ ຫານຕັ້ງໄວ້ໃກ້ກັບຮ່ອມພູກິດໂລນ ຫຼືຮິນໂນມ? (ຂ້າງດຽວກັນກັບພູໂມລິອາ)

ຝຶກ: ໃນຕາຕະລາງ “ເຂດເຢລູຊາເລັມແລະພະວິຫານ” ໃຫ້ທ່ານຊອກຫາບ່ອນຫວ່າງ ຂ້າງ “ພະວິຫານທຳອິດ” ໃຕ້ “ຜູ້ສ້າງ” ໃຫ້ຂຽນຊື່ “ຊາໂລໂມນ” ແລະໃນປີ “1000 ກ.ຄ.ສ.”



30 ເຮົາຮຽນຮູ້ແລ້ວວ່າ ອີກ 400 ປີມີສັດຕູມາທຳລາຍກຸງເຢລູຊາເລັມແລະພະວິຫານ  
ກ. ສັດຕູນັ້ນຄືຈັກກະພັດໃດ? \_\_\_\_\_

ຂ. ທຳລາຍໃນປະມານປີໃດ ກ.ຄ.ສ.? \_\_\_\_\_

ຄ. ແມ່ນຜູ້ທຳນວາຍໃດຖືກເນລະເທດໃນເວລານັ້ນ? \_\_\_\_\_

*ໝາຍເຫດ: ຄັນຈະເວົ້າຢ່າງແນ່ນອນ ຈັກກະພັດບາບີໂລນມາທຳລາຍ ເຢລູຊາເລັມໃນປີ 587  
ກ.ຄ.ສ. ແຕ່ທ່ານບໍ່ຕ້ອງຈື່ປີແນ່ນອນ ໃຫ້ຈື່ໄວ້ວ່າເປັນປະມານປີ 600 ກ.ຄ.ສ. ກໍພໍແລ້ວ.*

31 ໃຫ້ອ່ານໃນພະທຳ ປະຫວັດກະສັດທິສອງ 25:8-9. ແມ່ນຄົນໃດຕໍ່ໄປນີ້ທີ່ທຳລາຍພະວິຫານທີ່  
ຊາໂລໂມນສ້າງ? (ເລືອກ)

ກ. ກາຍຊາ

ຂ. ດານີເອນ

ຄ. ເນບຸກາດເນັບຊາ

ງ. ເຊລູບາເບນ

32 ກ. ເຈົ້າຈັກກະພັດບາບີໂລນທີ່ທຳລາຍກຸງເຢລູຊາເລັມແລະພະວິຫານຊື່ຫຍັງ? \_\_\_\_\_

ຂ. ທຳລາຍໃນປະມານປີໃດ? \_\_\_\_\_

ຝຶກ: ໃຫ້ທ່ານຂຽນຄວາມທີ່ຍັງຂາດຂ້າງຄຳ “ພະວິຫານທຳອິດ” ໃນຕາຕະລາງ “ເຂດ  
ເຢລູຊາເລັມແລະ ພະວິຫານ.” ໃຕ້ຄຳ “ທຳລາຍດ້ວຍ” ໃຫ້ຂຽນຊື່  
“ເນບຸກາດເນັດຊາ” ໃນປີ “600 ກ.ຄ.ສ.”

33 ອີກ 70 ປີ ຫຼັງຈາກພວກຊາວຍິວຖືກເນລະເທດໄປບາບີໂລນ ເຂົາໄດ້ຮັບການປົດປ່ອຍກັບໄປ  
ອີກ. ເຂົາສ້າງຫຍັງໃໝ່? \_\_\_\_\_

### 4. ພະວິຫານທີສອງ

34 ໃຫ້ອ່ານຈາກພະທຳເອັດຊະລາ 3:8. ໃນລາຍຊື່ຄົນທີ່ກັບໄປສ້າງພະວິຫານອີກເຫັນຊື່ຂອງໃຜ  
ກ່ອນ? \_\_\_\_\_

35 ກ. ແມ່ນໃຜສ້າງພະວິຫານທຳອິດ? \_\_\_\_\_

ຂ. ໃນປະມານປີໃດ? \_\_\_\_\_

ຄ. ແມ່ນໃຜສ້າງພະວິຫານທີສອງ? \_\_\_\_\_

ງ. ປະມານປີໃດ? (ເລືອກ)      500 ກ.ຄ.ສ.    1000 ກ.ຄ.ສ.    200 ກ.ຄ.ສ.

ໃຫ້ທ່ານເປີດເບິ່ງຕາຕະລາງ “ເຂດເຢລູຊາເລັມແລະພະວິຫານ” ອີກ ໃນບ່ອນຫວ່າງ  
ຂ້າງ “ພະວິຫານທີສອງ” ໃຕ້ “ຜູ້ສ້າງ” ໃຫ້ຂຽນຊື່ “ເຊລູບາເບນ”  
ແລະໃຕ້ “ໃນປີ” ໃຫ້ຂຽນ “500 ກ.ຄ.ສ.”

- 36** ມີສ່ວນແຕກຕ່າງກັນສອງປະການລະຫວ່າງພະວິຫານທຳອິດແລະພະວິຫານທີສອງ. ແມ່ນ  
 ຊາວໃດຕໍ່ໄປນີ້ທີ່ຜິດ ໃຈກັບຍົວເລື່ອງການສ້າງພະວິຫານທີສອງນັ້ນ? (ເລືອກ)  
 ກ. ກະລິກ                      ຂ. ໂລມ                      ຄ. ຊາມາເລຍ                      ງ. ຊີເລຍ
- 37** ຊາວຊາມາເລຍ ຊູ່ເຂັ້ມວ່າຈະຫ້າມບໍ່ໃຫ້ຊາດຍົວສ້າງພະວິຫານມາໃໝ່ ສະນັ້ນເຂົາສ້າງເດີ້ນ  
 ໃນສະເພາະເພື່ອ ຊາດຍົວແລະເດີ້ນນອກສຳລັບຄົນຕ່າງຊາດ. ດັ່ງນັ້ນ ຊາວຊາມາເລຍບໍ່ມີສິດ  
 ເຂົ້າຮ່ວມກັບຊາດຍົວໃນເດີ້ນນັ້ນ. ຕັ້ງແຕ່ທີ່ເຂົາສ້າງພະວິຫານທີສອງຂຶ້ນມາ ພະວິຫານມີສີ່  
 ສ່ວນແລ້ວ. ສ່ວນທີ່ສິ້ນຄືສ່ວນໃດ? (ເລືອກ)  
 ກ. ເດີ້ນຄົນຕ່າງປະເທດ                      ຂ. ເດີ້ນຊາດຍົວ  
 ຄ. ຫ້ອງສັກສິດ                      ງ. ຫ້ອງສັກສິດທີ່ສຸດ
- 38** ໃນໜ້າປົກບົດນີ້ ມີແຜນຜັງພະວິຫານທີ່ເຊລູບາເບນ ສ້າງໃນຮູບທີ 4. ແທ່ນບູຊາເຜົາ ແລະ  
 ຊາມຢູ່ໃນເດີ້ນໃດ? \_\_\_\_\_
- 39** ພະວິຫານທີສອງຢູ່ໃນສະຖານທີ່ດຽວກັນກັບພະວິຫານທຳອິດ ແຕ່ເພື່ອຈະບໍ່ໃຫ້ຊາວຊາມາເລຍ  
 ເຂົ້າກັບຊາດຍົວ ມີອີກສ່ວນໜຶ່ງຕ່າງຫາກ. ໃຫ້ທ່ານຈົດຊື່ແຕ່ລະສ່ວນໃນພະວິຫານຂອງເຊລູ  
 ບາເບນ  
 \_\_\_\_\_  
 \_\_\_\_\_
- 40** ກ. ເດີ້ນຄົນຕ່າງຊາດປາກົດມາໃນພະວິຫານໃດ? \_\_\_\_\_  
 ຂ. ເປັນຫຍັງເຂົາຈຶ່ງສ້າງເດີ້ນນັ້ນໃໝ່? \_\_\_\_\_  
 ຄ. ແມ່ນພະວິຫານໃດທີ່ບໍ່ມີເດີ້ນຕ່າງຫາກສຳລັບຄົນຕ່າງຊາດ? \_\_\_\_\_  
*ພະວິຫານທີສອງແຕກຕ່າງກັນກັບພະວິຫານທຳອິດເພາະພະວິຫານທຳອິດບໍ່ມີເດີ້ນທີ່ແຍກຕ່າງ  
 ຫາກສຳລັບ ຄົນຕ່າງຊາດແຕ່ຍັງມີອີກດ້ານໜຶ່ງທີ່ແຕກຕ່າງກັນ.*
- 41** ໃນເມື່ອເວລາກອງທັບຂອງບາບີໂລນທຳລາຍພະວິຫານຂອງ ຊາໂລໂມນໃນ 600 ປີ ກ.ຄ.ສ.  
 ຫົບຄຳສັນຍາ ຫາຍໄປແລ້ວ. ແມ່ນໃນພະວິຫານສອງຫຼັງ ໃດທີ່ຫ້ອງສັກສິດທີ່ສຸດຫວ່າງເປົ່າ?  
 ກ. ເຕັ້ນສັກສິດ                      ຄ. ພະວິຫານຂອງເຊລູບາເບນ  
 ຂ. ພະວິຫານຂອງຊາໂລໂມນ                      ງ. ພະວິຫານຂອງເຮໂລດ (ເລືອກ)
- 42** ກ. ພະວິຫານຂອງເຊລູບາເບນຂາດຫຍັງ? \_\_\_\_\_  
 ຂ. ແມ່ນຫ້ອງໃດທີ່ຫວ່າງເປົ່າແລ້ວ? \_\_\_\_\_
- 43** ພະວິຫານທຳອິດແລະພະວິຫານທີສອງຕ່າງກັນຢ່າງໃດ? (ສອງປະການ)  
 ກ. \_\_\_\_\_  
 ຂ. \_\_\_\_\_

**44** ໃນລະຫວ່າງສະໄໝພະຄຳພີເດີມແລະພະຄຳພີໃໝ່ ມີຄົນຕ່າງປະເທດເຂົ້າມາໃນພະວິຫານ ໃຫ້ເສຍຄວາມສັກສິດ. ໃນເຫຼັ້ມທີ 4 ບົດທີ 16 ທ່ານໄດ້ຮຽນເລື່ອງນັ້ນ ເຫດການນັ້ນເກີດຂຶ້ນ ປະມານ 200 ປີ ກ.ຄ.ສ.

ກ. ຄົນຕ່າງປະເທດນັ້ນເອົາຫຍັງມາບູຊາໃນພະວິຫານ? \_\_\_\_\_

ຂ. ເຫດສະການສະຫຼອງພະວິຫານໃນສະໄໝພະເຢຊູລະນິກເຖິງເຫດການໃດ? \_\_\_\_\_

ຄ. ໃນປະມານປີໃດ ກ.ຄ.ສ.? \_\_\_\_\_

ງ. ນັກປະຫວັດສາດຊາດຍົວທີ່ລາຍງານເລື່ອງນັ້ນຊື່ຫຍັງ? \_\_\_\_\_

**45** ຄົນຕ່າງຊາດທີ່ມາບູຊາໝູ່ໃນພະວິຫານເປັນກະສັດຂອງຊີເລຍທີ່ຢາກບັງຄັບໃຫ້ຄົນຍົວປະການ ບູຊາໃນພະວິ ຫານ. ທີ່ຈິງເພິ່ນບໍ່ໄດ້ມ້າງແຕ່ເພິ່ນທຳລາຍຄວາມສັກສິດຂອງພະວິຫານ. ແມ່ນ ກະສັດຂອງປະເທດໃດທີ່ບູຊາໝູ່ໃນ ພະວິຫານ? \_\_\_\_\_

ໃຫ້ທ່ານເປີດເບິ່ງຕາຕະລາງ “ເຂດເຢລູຊາເລັມແລະພະວິຫານ” ອີກ. ໃນຂ້າງຂວາ “ພະວິຫານທີສອງ” ໃຕ້ “ທຳລາຍດ້ວຍ” ໃຫ້ຂຽນຄຳວ່າ “ກະສັດຊີເລຍທຳລາຍຄວາມສັກສິດ” ໃນປີ ປະມານ 200 ກ.ຄ.ສ

**5. ພະວິຫານທີ 3 (ເຮໂລດສ້າງ)**

**46** ພະວິຫານທີ 3 ນີ້ເປັນພະວິຫານສະໄໝພະເຢຊູ. ພະວິຫານນີ້ສ້າງດ້ວຍຫີນລາຍຄຸນນະພາບ ຢ່າງດີທີ່ສຸດແລະມີ ຄຳ ເປັນ ເຄື່ອງເອ້. ແມ່ນເຮໂລດອົງໃດທີ່ສ້າງພະວິຫານນີ້? \_\_\_\_\_

**47** ພະວິຫານທີ 3 ນັ້ນບໍ່ແມ່ນເຂົາກໍ່ສ້າງໃໝ່ທັງໝົດ ແຕ່ເຂົາສ້ອມແຊມໃໝ່ຈາກສ່ວນທີ່ເຫຼືອ ຢູ່ຂອງພະວິຫານທີ ສອງເຂົາສ້ອມແຊມໃໝ່ຫຼາຍທີ່ສຸດຈົນກວ່າເບິ່ງບໍ່ຄືພະວິຫານທີສອງຈັກດີ. ພະວິຫານທີ 3 ສ້າງມາໃໝ່ເປັນຢ່າງໃດ? (ເລືອກ)

ກ. ເຂົາມ້າງພະວິຫານທີສອງຈົນບໍ່ເຫຼືອຈິ່ງສ້າງພະວິຫານທີສາມຂຶ້ນ.

ຂ. ເຂົາສ້ອມແຊມພະວິຫານທີສອງມາ ໃໝ່ຈົນເບິ່ງບໍ່ຄືພະວິຫານຂອງເຊລູບາເບນ.

ຄ. ເຂົາສ້ອມແຊມພະວິຫານທີສອງໜ້ອຍດຽວຈິ່ງປະກາດວ່າເປັນພະວິຫານທີສາມ.

ໃນຕາຕະລາງ “ເຂດເຢລູຊາເລັມແລະພະວິຫານ” ຂ້າງ “ພະວິຫານທີສາມ” ໃຕ້ “ຜູ້ສ້າງ” ໃຫ້ຂຽນຊື່ “ເຮໂລດຜູ້ຍິ່ງໃຫຍ່” ໃນປີທີ ຄ.ສ.1.

**48** ພະວິຫານທີ່ເຮໂລດຜູ້ຍິ່ງໃຫຍ່ສ້າງ,ມີແຜນຜັງອັນດຽວກັນກັບພະວິຫານທີ່ເຊລູບາເບນສ້າງ.

ກ. ມີສອງເດີນໃດ? \_\_\_\_\_ ແລະ \_\_\_\_\_

ຂ. ຫ້ອງໃດຫວ່າງເປົ່າ? \_\_\_\_\_

49 ກ. ໃນພະວິຫານທີສາມ ແລະ ເຕັ້ນສັກສິດ ມີຫຍັງທີ່ແຍກຫ້ອງສັກສິດທີ່ສຸດຈາກຫ້ອງສັກສິດ?

ຂ. ໃຫ້ອ່ານ ມັດທາຍ 27:51 ໃນເມື່ອເວລາພະເຢຊູຕາຍຜັກກັ້ນນັ້ນເປັນຢ່າງໃດ?

ຄ. ໃຫ້ອ່ານ ເຮັບເລີ 10:19 ແລະ 10:22 ຜັກກັ້ນໃນສະຖານທີ່ສັກສິດທີ່ສຸດຖືກຈັກເປັນສອງ ຕອນໝາຍຄວາມ ວ່າເຮົາມີສິດເຂົ້າໄປບ່ອນໃດແລ້ວ?

50 ພະວິຫານຂອງເຮໂລດມີຢ່າງ ໜຶ່ງທີ່ພະວິຫານຂອງເຊລູບາເບນບໍ່ມີ. ເຮໂລດສ້າງພະວິຫານ ນັ້ນສະເພາະເພື່ອຈະ ເອົາໃຈຄົນຢົວ ແຕ່ເຮໂລດເປັນຕຸກກະຕາຂອງຈັກກະພັດໂລມ ດັ່ງນັ້ນ ເພິ່ນຈຳເປັນຕ້ອງເອົາໃຈທະຫານໂລມດ້ວຍ. ເມື່ອເຮໂລດສ້າງພະວິຫານເພິ່ນສ້າງຫ້ອງແຖວ ສູງສຳລັບທະຫານໂລມຂ້າງກຳແພງພະວິຫານ ຕືກນັ້ນມີຊື່ວ່າ: “ຫໍອັນໂຕເນຍ”

ກ. ເຮໂລດສ້າງຫຍັງເພື່ອເອົາໃຈຄົນຢົວ?

ຂ. ສ້າງຫຍັງເພື່ອເອົາໃຈຈັກກະພັດໂລມ?

51 “ຫໍອັນໂຕເນຍ” ຢູ່ຕິດກັບກຳແພງທິດເໜືອຂອງພະວິຫານທີ່ເຮໂລດສ້າງ. ໃຫ້ທ່ານເປີດເບິ່ງຮູບ ທີ 5 ຫນ້າປົກບົດນີ້.

ກ. ຕົວອັກສອນໃດໝາຍພະວິຫານ?

ຂ. ຕົວອັກສອນໃດໝາຍຫໍອັນໂຕເນຍ?

ຄ. ໃນຮູບນັ້ນ ພະວິຫານຂອງເຮໂລດມີເດີນຄົນຕ່າງປະເທດບໍ່?

52 ເຮໂລດສ້າງອຸບໂມງທີ່ຕໍ່ລະຫວ່າງຫໍອັນໂຕເນຍເຂົ້າໄປຫາເດີນຂອງພະວິຫານເພື່ອວ່າທະຫານ ໂລມຈະແລ່ນ ເຂົ້າເດີນພະວິຫານໄດ້ທັນທີ. ສ່ວນຊາດຢົວເຂົາຈະຄິດຢ່າງໃດກ່ຽວກັບຫໍຂອງ ອັນໂຕເນຍນັ້ນ? (ເລືອກ)

ກ. ເຂົາມັກ

ຂ. ເຂົາບໍ່ມັກ

ຄ. ເຂົາບໍ່ເປັນຫຍັງ

**ທຳລາຍພະວິຫານ**

53 ຕໍ່ໄປເຮົາຈະຮຽນເລື່ອງທີ່ພະເຢຊູທຳນວາຍເລື່ອງການທຳລາຍພະວິຫານ. ໃນປີ ຄ.ສ.70 ມີ ນາຍພົນໂລມຄົນໜຶ່ງ ທີ່ມາທຳລາຍພະວິຫານຈົນກວ່າບໍ່ເຫຼືອກ້ອນຫີນທີ່ຊ້ອນທົບກັນ.

ກ. ແມ່ນນາຍພົນຊາດໃດທີ່ທຳລາຍພະວິຫານ?

ຂ. ທຳລາຍໃນປີໃດ?

ຄ. ທຳລາຍພະວິຫານໃດໃນເວລານັ້ນ?

ໃນຕາຕະລາງ “ເຂດເຢລູຊາເລັມແລະພະວິຫານ” ຂ້າງ “ພະວິຫານທີສາມ”  
ໃຕ້ “ທຳລາຍດ້ວຍ” ໃຫ້ຊຽນ “ນາຍພົນຊາດໂລມ” ໃນປີ “ຄ.ສ.70”


- 54 ດຽວນີ້ ສ່ວນທີ່ຍັງເຫຼືອຢູ່ຈາກພະວິຫານຂອງເຮໂລດນັ້ນຍັງມີແຕ່ຮາກຖານຂ້າງດຽວ. ໃນທຸກມື້ນີ້ຄົນຍິ່ວໃນປະເທດອິດສະລາເອນຮ່ວມກັນຮ້ອງໄຫ້ທີ່ພະວິຫານຂອງເຂົາເສຍໄປຕັ້ງແຕ່ປີ ຄ.ສ.70. ທຸກໆວັນນີ້ ປະຊາຊົນອິດສະລາເອນ ພາກັນຮ້ອງໄຫ້ບ່ອນໃດ? (ເລືອກ)
- ກ. ຮາກຖານຂອງພະວິຫານເຮໂລດ
  - ຂ. ຫໍຂອງອັນໂຕເນຍ
  - ຄ. ຮ່ອມພູກິດໂລນ

### 6. ເຢລູຊາເລັມສະໄໝນີ້ ສຸເຫຼົ່າສັກສິດ

55 ກອງທັບໂລມເຂົ້າໄປທຳລາຍກຸງເຢລູຊາເລັມທັງພະວິຫານດ້ວຍ ໃນປີ ຄ.ສ.70 ຕໍ່ໄປເຂົາສ້າງກຸງເຢລູຊາເລັມ ຂຶ້ນມາໃໝ່ ແຕ່ຫຼັງຈາກນັ້ນອີກ 600 ປີ ມີກອງທັບຂອງສາສະໜາອິດສະລາມມາທຳລາຍອີກ. ເຂົາມາສ້າງ ສຸເຫຼົ່າໃນສະຖານທີ່ດຽວ ກັບພະວິຫານ ເປັນທີ່ສັກສິດຂອງສາສະໜາອິດສະລາມຕໍ່ມາ. ໃຫ້ທ່ານເບິ່ງຮູບທີ 6 ຫນ້າປົກປິດນີ້ ຊຶ່ງເປັນຮູບສຸເຫຼົ່າສັກສິດ ສຸເຫຼົ່ານັ້ນມີຫຼັງຄາກົມ. ພະວິຫານກ່ອນຫຼັງຄາເປັນຮູບແບບໃດ? \_\_\_\_\_

- 56 ກ. ສ່ວນທີ່ຍັງເຫຼືອຢູ່ຈາກພະວິຫານມີສ່ວນໃດ? \_\_\_\_\_
- ຂ. ໃນປະຈຸບັນນີ້ ມີຕຶກໃດໃນສະຖານທີ່ເກົ່າຂອງພະວິຫານ? \_\_\_\_\_

- 57 ຕຶກທີ່ຕັ້ງໄວ້ໃນສະຖານທີ່ຂອງພະວິຫານຍິ່ວ ຕຶກນັ້ນເປັນທີ່ສັກສິດຂອງສາສະໜາໃດ? (ເລືອກ)
- ກ. ສາສະໜາຄຼິດ
  - ຂ. ສາສະໜາພຸດ
  - ຄ. ສາດສະໜາອິດສະລາມ
  - ງ. ສາສະໜາຢິວ



**58** ພວກເຮົາຮຽນມາ 6 ໄລຍະໃນປະຫວັດສະຖານທີ່ຂອງພະວິຫານຄື:

ພູໂມລິອາໃນສະໄໝອັບລາຮາມ	(ຫຍໍ້ວ່າ “ໂມລິອາ”)
ເຕັ້ນສັກສິດ	(ຫຍໍ້ວ່າ “ເຕັ້ນ”)
ພະວິຫານທຳອິດ	(ຫຍໍ້ວ່າ “ທຳອິດ”)
ພະວິຫານທີສອງ	(ຫຍໍ້ວ່າ “ທີສອງ”)
ພະວິຫານທີສາມ	(ຫຍໍ້ວ່າ “ທີສາມ”)
ສຸເຫຼົ້າສັກສິດ	(ຫຍໍ້ວ່າ “ສຸເຫຼົ້າ”)

ໃນເຫດການຕ່າງໆ ຕໍ່ໄປນີ້ ໃຫ້ທ່ານຂຽນໄລຍະຂອງພະວິຫານດ້ວຍຄຳຫຍໍ້ໃສ່ຂ້າງດັ່ງຕໍ່ໄປນີ້:

- ກ. ຜູ້ກຳກັງຈົກເປັນສອງຕອນ \_\_\_\_\_
- ຂ. ມີເດີນສຳລັບຄົນຕ່າງປະເທດ \_\_\_\_\_
- ຄ. ຫ້ອງສັກສິດທີ່ສຸດຫວ່າງເປົ່າ \_\_\_\_\_
- ງ. ມີຜູ້ກຳກັງແຍກຫ້ອງສັກສິດທີ່ສຸດຈາກຫ້ອງສັກສິດ \_\_\_\_\_
- ຈ. ມີແທ່ນບູຊາເຄື່ອງຫອມ \_\_\_\_\_
- ສ. ຫົບຄຳສັນຍາມີຢູ່ໃນຫ້ອງສັກສິດທີ່ສຸດ \_\_\_\_\_
- ຊ. ຫ້ອງສັກສິດທີ່ສຸດບໍ່ມີຫົບຄຳສັນຍາ \_\_\_\_\_
- ຍ. ເປັນວິຫານທີ່ເຄື່ອນທີ່ໄດ້ \_\_\_\_\_
- ດ. ປະກອບດ້ວຍສາມພາກສ່ວນ \_\_\_\_\_
- ຕ. ມີ 4 ສ່ວນ \_\_\_\_\_
- ຖ. ຫ້ອງສັກສິດມີເຄື່ອງຮອງຕີນໂຄມ, ໂຕະເຂົ້າຈີ່, ແທ່ນບູຊາເຄື່ອງຫອມ \_\_\_\_\_
- ທ. ເມັ່ນຄີເຊເດັກເອົາເຂົ້າຈີ່ແລະເຫຼົ້າອະນຸ່ນໃຫ້ອັບລາຮາມ \_\_\_\_\_
- ນ. ພະເຈົ້າເອົາແກະມາໃຫ້ບູຊາແທນອີຊາກ \_\_\_\_\_

**59** ໃຫ້ທ່ານຂຽນແຕ່ລະໄລຍະຕາມປີທີ່ຢູ່ຂ້າງຊ້າຍ


- ກ. 2000 ກ.ຄ.ສ. ຄືໄລຍະໃດ? \_\_\_\_\_
- ຂ. 1400 ກ.ຄ.ສ. ຄືໄລຍະໃດ? \_\_\_\_\_
- ຄ. 1000 ກ.ຄ.ສ. ການສ້າງຫຍັງ? \_\_\_\_\_
- ງ. 600 ກ.ຄ.ສ. ການທຳລາຍຫຍັງ? \_\_\_\_\_
- ຈ. 500 ກ.ຄ.ສ. ສ້າງຫຍັງ? \_\_\_\_\_
- ສ. 200 ກ.ຄ.ສ. ທຳລາຍຄວາມສັກສິດຫຍັງ? \_\_\_\_\_
- ຊ. ຄ.ສ. 1 ສ້າງຫຍັງ? \_\_\_\_\_
- ຍ. ຄ.ສ.70 ທຳລາຍຫຍັງ? \_\_\_\_\_
- ດ. ປະຈຸບັນ ມີຫຍັງຢູ່? \_\_\_\_\_

60 ໃນລາຍຊື່ເຫດການຕໍ່ໄປນີ້ ໃຫ້ທ່ານຂຽນປີ (ກະປະມານ) ຂອງເຫດການນັ້ນ.

- ກ. ອັບລາຮາມຢູ່ໃນປີໃດ? \_\_\_\_\_
- ຂ. ເຕັ້ນສັກສິດເດ? \_\_\_\_\_
- ຄ. ຊາໂລໂມນສ້າງພະວິຫານທຳອິດ? \_\_\_\_\_
- ງ. ກອງທັບບາບີໂລນທຳລາຍພະວິຫານ? \_\_\_\_\_
- ຈ. ເຊລູບາເບນສ້າງພະວິຫານທີສອງ? \_\_\_\_\_
- ສ. ກະສັດຊີເລຍທຳລາຍຄວາມສັກສິດນັ້ນ? \_\_\_\_\_
- ຊ. ຢູດາແມັກຄາບິດຊຳລະພະວິຫານທີສອງ? \_\_\_\_\_
- ຍ. ເຮໂລດຕິບແຕ່ງພະວິຫານໃຫ້ໃໝ່? \_\_\_\_\_
- ດ. ນາຍພົນກອງທັບໂລມທຳລາຍພະວິຫານທີສາມ? \_\_\_\_\_

ເພື່ອປຶກສາຫາລືກັນໃນປະຊຸມ: ທີ່ເຮົາຮຽນຕໍ່ໃນພະຄຳພີໃໝ່ເຫັນວ່າສ່ວນປະກອບແຕ່ລະປະການໃນພະວິຫານ ເປັນສັນຍາລັກໃນການໄດ້ລອດດ້ວຍພະເຢຊູຄື:

ແທ່ນບູຊາເຜົາ	ໝາຍເຖິງ	ພະເຢຊູສະຫຼະຊີວິດເພື່ອເຮົາ
ຊາມ	ໝາຍເຖິງ	ການຊຳລະຈາກຜິດບາບ
ແທ່ນບູຊາເຄື່ອງຫອມ	ໝາຍເຖິງ	ການອ້ອນວອນ
ໂຕະເຂົ້າຈີ່	ໝາຍເຖິງ	ການອ່ານພະທຳ
ເຄື່ອງຮອງຕົນໂຄມ	ໝາຍເຖິງ	ການເປັນພະຍານຄືສ່ອງແສງສະຫວ່າງ
ຫີບຄຳສັນຍາ	ໝາຍເຖິງ	ການຢູ່ໃນສະພາບບໍລິສຸດຕໍ່ໜ້າພະເຈົ້າ



**ຄຳຕອບ:**

- 1    ກ. 2000 ກ.ຄ.ສ.                    ຂ. 1000 ກ.ຄ.ສ.                    ຄ. 600 ກ.ຄ.ສ.
- 2    2000 ກ.ຄ.ສ.
- 3    ກ. ເມັ້ນຄືເຊເດັກ    ເມືອງ ຊາເລັມ    ຂ. ເຂົາຈີ່ ແລະເຫຼົາອະງຸ່ນ    ຄ. ອີຊາກ... ແກະ
- ງ. ພູໂມລິອາ            ຈ. ເຢລູຊາເລັມ    ສ. ບາບຂອງໂລກ            ຊ. ພະເຢຊູ

ຄຳຕອບ (ຕໍ່):

- 4 ກ. ເຂົາຈີ່ ແລະ ເຫຼົາອະງຸ່ນ ຂ. ເຂົາຈີ່ ແລະ ເຫຼົາອະງຸ່ນ ຄ. ແກະ ງ. ແກະ  
ຈ. ເຢລູຊາເລັມ
- 5 ກ. ພູໂມລິອາ ຂ. ເຢລູຊາເລັມ
- 6 ກ. ຮ່ອມພູກິດໂລນ ຂ. ຕາເວັນຕົກ ຄ. ຕາເວັນອອກ
- 7 ກ. ຮິນໂນມ ຂ. ກິດໂລນ
- 8 ກ. ເຂົາຈີ່ ແລະ ເຫຼົາອະງຸ່ນ ຂ. ເຂົາຈີ່ ແລະ ເຫຼົາອະງຸ່ນ ຄ. ອີຊາກ  
ງ. ແກະ ຈ. ເຢລູຊາເລັມ
- 9 ກ. ໂມເຊ ຂ. 1400 ກ.ຄ.ສ.
- 10 ເຕັນສັກສິດ
- 11 ກ. ເຕັນສັກສິດ ຂ. ໂມເຊ ຄ. 1400 ກ.ຄ.ສ.
- 12 ກ. ຫິບຄຳສັນຍາ ຂ. ໃນເຕັນສັກສິດ
- 13 ກ. ຫ້ອງສັກສິດທີ່ສຸດ ແລະ ຫ້ອງສັກສິດ ຂ. ເດີນ
- 14 ກ. ອັກສອນ ກ ຂ. ອັກສອນ ຂ ຄ. ອັກສອນ ຄ
- 15 ກ. ຫ້ອງສັກສິດ ແລະ ຫ້ອງສັກສິດທີ່ສຸດ ຂ. ເດີນ
- 16 ກ. ຫ້ອງສັກສິດທີ່ສຸດ ຂ. ຫິບຄຳສັນຍາ ຄ. ເດີນ ງ. ຊາມ ແລະ ແທ່ນບູຊາເຜົາ  
ຈ. ຫ້ອງສັກສິດ ສ. ແທ່ນບູຊາເຄື່ອງຫອມ... ໂຕະເຂົາຈີ່... ເຄື່ອງຮອງຕີນໂຄມ
- 17 ກ. ອັກສອນ ກ ຂ. ຫ້ອງສັກສິດທີ່ສຸດ ຄ. ອັກສອນ ຂ ງ. ຫ້ອງສັກສິດ  
ຈ. ອັກສອນ ຄ ສ. ເດີນ
- 18 ກ. ເຢລູຊາເລັມ ຂ. ເຢບູດ
- 19 ກ. ຮິນໂນມ ຂ. ກິດໂລນ ຄ. ກຳແພງ
- 20 ກ. ຊີໂອນ ຂ. ດາວິດ ຄ. ຕາເວັນອອກ ງ. ຕາເວັນຕົກ
- 21 1000 ກ.ຄ.ສ.
- 22 ກ. ຊາໂລໂມນ ຂ. ດາວິດ
- 23 ກ. ງ. ຈ.
- 24 ຫ້ອງສັກສິດທີ່ສຸດ - ງ ຫ້ອງສັກສິດ - ຈ ເດີນ - ສ
- 25 ກ. ຫ້ອງສັກສິດທີ່ສຸດ ຂ. ຫ້ອງສັກສິດ ຄ. ເດີນ ງ. ເດີນ  
ຈ. ຫ້ອງສັກສິດ ສ. ຫ້ອງສັກສິດ
- 26 ກ. ຫິບຄຳສັນຍາ  
ຂ. ແທ່ນບູຊາເຄື່ອງຫອມ, ໂຕະເຂົາຈີ່ ແລະ ເຄື່ອງຮອງຕີນໂຄມ  
ຄ. ຊາມ ແລະ ແທ່ນບູຊາເຜົາ
- 27 ຜ້າກັ້ງ
- 28 ກ. ພະວິຫານ ຂ. ເຕັນສັກສິດ



ຄຳຕອບ (ຕໍ່):

- 29 ກິດໂລນ
- 30 ກ. ບາບີໂລນ      ຂ. ປະມານ 600 ປີ ກ.ຄ.ສ.      ຄ. ດານີເອນ
- 31 ຄ ຖືກ
- 32 ກ. ເນບຸກາດເນັດຊາ      ຂ. ປະມານ 600 ປີ ກ.ຄ.ສ.
- 33 ພະວິຫານ
- 34 ເຊລູບາເບນ
- 35 ກ. ຊາໂລໂມນ      ຂ. 1000 ກ.ຄ.ສ.      ຄ. ເຊລູບາເບນ      ງ. 500 ກ.ຄ.ສ.
- 36 ຄ ຖືກ
- 37 ກ ຖືກ.
- 38 ເດີ້ນຊາດຍິວ
- 39 ຫ້ອງສັກສິດທີ່ສຸດ ຫ້ອງສັກສິດ ເດີ້ນຊາດຍິວ ເດີ້ນຄົນຕ່າງຊາດ
- 40 ກ. ວິຫານທິສອງ (ເຊລູບາເບນ)  
     ຂ. ບໍ່ໃຫ້ຊາວຊາມາເລຍເຂົ້າເດີ້ນໃນ (ເດີ້ນຊາດຍິວ)  
     ຄ. ທຳອິດ (ຊາໂລໂມນ)
- 41 ຄ ແລະ ງ ຖືກ
- 42 ກ. ບໍ່ມີຫົບຄຳສັນຍາ      ຂ. ຫ້ອງສັກສິດທີ່ສຸດ
- 43 ກ. ພະວິຫານທຳອິດມີເດີ້ນດຽວພະວິຫານທິສອງມີເດີ້ນໃນແລະເດີ້ນນອກສຳລັບຄົນຕ່າງ  
     ປະເທດ.      ຂ. ພະວິຫານທຳອິດມີຫົບຄຳສັນຍາ ພະວິຫານທິສອງບໍ່ມີ.
- 44 ກ. ໝູ      ຂ. ການຊຳລະວິຫານຫຼັງຈາກເຫດການນັ້ນ      ຄ. 200 ກ.ຄ.ສ.      ງ. ໂຢເສີຟັດ
- 45 ຊີເລຍ
- 46 ຜູ້ຍິ່ງໃຫຍ່
- 47 ຂ ຖືກ
- 48 ກ. ໃນ (ຂອງຊາດຍິວ) ແລະ ນອກ (ເພື່ອຄົນຕ່າງຊາດ)      ຂ. ຫ້ອງສັກສິດທີ່ສຸດ.
- 49 ກ. ຜ້າກັ້ງ      ຂ. ຖືກຈັກເປັນສອງຕອນ  
     ຄ. ເຂົ້າໄປໃນສະຖານທີ່ສັກສິດ (ຄຳຄ້າຍຄືກໍໄດ້)
- 50 ກ. ພະວິຫານ      ຂ. ຫໍອັນໂຕເນຍ
- 51 ກ. ຊ ຄືພະວິຫານ      ຂ. ສ ຄືຫໍຂອງອັນໂຕເນຍ      ຄ. ມີ
- 52 ຂ ຖືກ
- 53 ກ. ໂລມ      ຂ. ຄ.ສ.70      ຄ. ທີ 3
- 54 ກ ຖືກ
- 55 ສີ່ຫຼ່ຽມ
- 56 ກ. ຮາກຖານ      ຂ. ສູເຫຼົ້າສັກສິດ

ຄຳຕອບ (ຕໍ່):

57 ຄ ຖືກ

58 ກ. ທີ່ສາມ ຂ. ທີ່ສອງແລະທີ່ສາມ ຄ. ທີ່ສອງແລະທີ່ສາມ

ງ. ເຕັ້ນ, ທຳອິດ, ທີ່ສອງ, ທີ່ສາມ ຈ. ເຕັ້ນ, ທຳອິດ, ທີ່ສອງ, ທີ່ສາມ

ສ. ເຕັ້ນ, ທຳອິດ ຊ. ທີ່ສອງ, ທີ່ສາມ ຍ. ເຕັ້ນ ດ. ເຕັ້ນ, ທຳອິດ

ຕ. ທີ່ສອງ, ທີ່ສາມ ຖ. ເຕັ້ນ, ທຳອິດ, ທີ່ສອງ, ທີ່ສາມ ທ. ໂມລິອາ

ນ. ໂມລິອາ

59 ກ. ອັບລາຮາມ (ພູໂມລິອາ) ຂ. ເຕັ້ນສັກສິດ ຄ. ພະວິຫານທຳອິດ (ຊາໂລໂມນ)

ງ. ພະວິຫານທຳອິດ (ຊາໂລໂມນ) ຈ. ພະວິຫານທີ່ສອງ (ເຊລູບາເບນ)

ສ. ພະວິຫານທີ່ສອງ (ເຊລູບາເບນ) ຊ. ພະວິຫານທີ່ສາມ (ເຮໂລດ)

ຍ. ພະວິຫານທີ່ສາມ (ເຮໂລດ) ດ. ສຸເຫຼົ້າສັກສິດ (ສາສະໜາອິດສະລາມ)

60 ກ. 2000 ກ.ຄ.ສ. ຂ. 1400 ກ.ຄ.ສ. ຄ. 1000 ກ.ຄ.ສ.

ງ. 600 ກ.ຄ.ສ. ຈ. 500 ກ.ຄ.ສ. ສ. 200 ກ.ຄ.ສ. ຊ. 200 ກ.ຄ.ສ.

ຍ. ຄ.ສ. 1 ດ. ຄ.ສ.70